

Всероссийская олимпиада школьников 2023-2024 учебный год
 Время выполнения 45 мин. Максимальное кол-во баллов – 27

ШИФР Г-5-2 1215
 Теоретический тур

№ задания	Правильный ответ	Кол-во баллов
1	В	1
2	Б	1
3	Г	1
4	А	1
5	Г	1
6	Б	1
7	1-Б, 2-А, 3-Г, 4-В	4
8	Г	1
9	2БГ	0
10	1-А, 1-Г, 2-Б, 3-В, 4-А	4
11	В	0
12	Емшоей	1
13	В	1
14	В	1
15	Г	1
Всего баллов		19

Практический тур

№ задания	Правильный ответ	Балл
1	Природная зона А – Сельва	1
	Природная зона Б – Смешанный лес	1
2	животные степей – Антилопа тотто	
	животные смешанных лесов –	
Всего баллов		2

Председатель комиссии Дуровская Е. В.

Шифр Г-6-6 / 195

Тестовый тур			
№	Правильный ответ	Кол-во баллов	№
1	В	1	9
2	А	1	10
3	В	1	11
4	Б	1	12
5	А	1	13
6	молюска	1	14
7	Г	1	15
8	А	1	
			Всего баллов
			14

Практический тур

Задание №1

Цифра	Правильный ответ	Балл
1		
2		
3		
4		
5		
6		
7		
8		
9		
10		
Количество баллов		

2.		
Правильный ответ		Балл
Максимальная высота		
Минимальная высота		
Балл		
3.		
Задание	Правильный ответ	Балл
Порода деревьев		
Высота деревьев	10 м	05

Толщина деревьев	20	0,5
Расстояние между деревьями	0,2	0,5
Балл		

Максимальное количество баллов за задание – 10 баллов

Задание № 2. Максимальное количество баллов, которое можно набрать – 10.

№ п/п	Имя путешественника, исследователя	Важнейшие открытия
1.	Ажондакиа и Аргутин-Гранди	Первым пересёк Атлантический океан в субтропической и тропической полосе Северного полушария, открыл Карибское и Саргассово море, Южную Америку и Центральную Америку.
2.	Васко да Гама	первооткрыватель морского пути из Европы в Индию
3.	.	Открыл Фарерские острова, Исландию, Гренландию, Ньюфаундленд Северной Америки.
4.	Френсис Дрейк	Открыл пролив, соединяющий Тихий океан с Атлантическим океаном.
5.	Вильямс Жак	3 кругосветных экспедиции по исследованию Мирового океана, погиб на Гавайских островах.
6.	Вильям Тарпез	Открыл острова Шпицберген и Медвежий, северную оконечность Новой земли Северного Ледовитого океана.
7.	Бартоломео Диаш	Открыл мыс Доброй надежды в Индийский океан.
8.	Семен Дежнев	
9.		Открыл Карагинский залив, Камчатский залив, бухту Провидения, остров Святого Лаврентия, залив Креста, Авачинскую губу, острова Тихого океана.
10.		Провели камчатскую экспедицию, в которой определили соединение Азии и Америки перешейком; В Великой Северной экспедиции описаны русские берега от Югорского шара до Камчатки.

Первооткрыватель морского пути из Европы в Индию

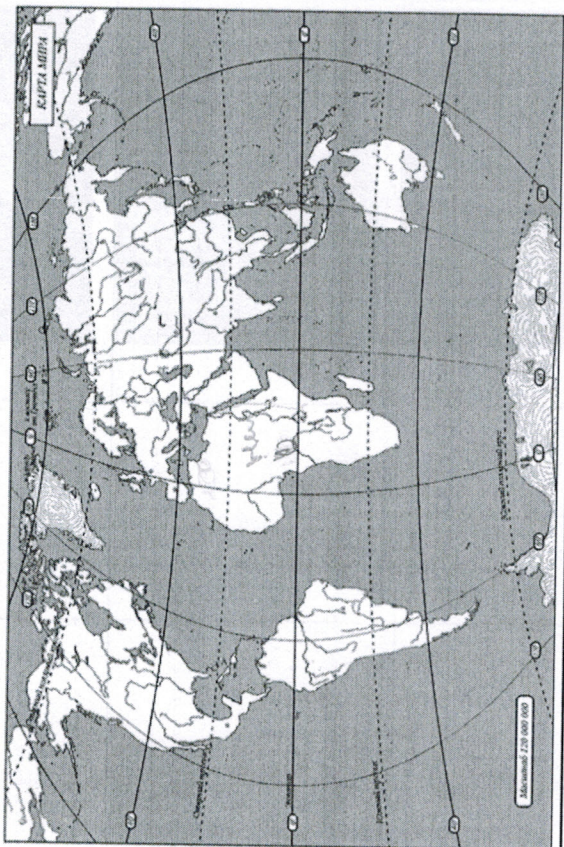
Шифр Г-7-4 / 245


Матрица ответов


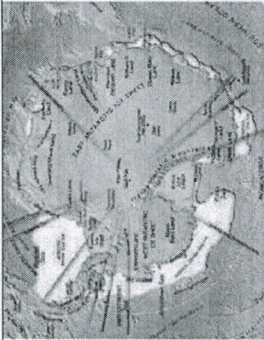


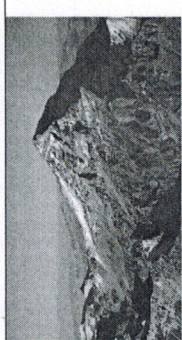
№ задания	Правильный ответ	Кол-во баллов
1	Б	1
2	В	1
3	БАДБЕ	1
4	БАВГ	2
5	ГБАБ	3
6	А	0
7	Б	1
8	В	1
9	Г-Б-В-З-А-Г-Б-А	5
10	БГ	0
11	Г	1
12	Г	1
13	1:122.000	1
14	Б	1
15	Осезонные колебания	0
16	Д	0
17	В	0
18	Енисей	1
Всего баллов		20

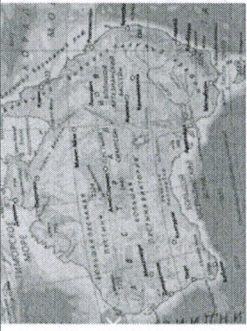
Практический тур

Задание №1



№ на карте	Объект	Название	Количество баллов
1		Гренландия	1

2		Самая высокая гора <i>Эверест</i>	1
3			
4		Самая длинная река <i>Нил</i>	0
5		Самая большая пустыня - <i>Сахара</i>	1
6		Самый высокий потухший вулкан.	

7			
Максимальное количество баллов			

Задание № 2. Максимальное количество баллов – 12.

За каждое правильно отмеченное сочетание по 2 балла

№ п/п	Расположение вулканов относительно границ литосферных плит	Географическое положение вулканов					
		Вулканы Средиземноморья	Вулканы срединной части Атлантического океана	Вулканы Южной Америки	Вулканы Северной Америки	Вулканы западной Тихого океана	Вулканы островов Гавайского архипелага
1	Вулканы зон расхождения литосферных плит	+	+	+			
2	Вулканы зон схождения литосферных плит			+	+	+	
3	Вулканы внутриокеанских литосферных плит						
4	Вулканы зон скольжения относительно друг друга литосферных плит	+				+	

4/5

Григорьевичи
Душоваева С.А. Дух

Всероссийская олимпиада школьников 2023-2024 учебный год
Школьный этап. География, 8 класс, ответы
Время выполнения 60 мин. Максимальное кол-во баллов – 54

ШИФР Г-8-3 / 215

Тестовый тур (27 баллов)

№ задания	Правильный ответ	Кол-во баллов
1	ж	0
2	в д	1
3		0
4	2) 1) 4) 3)	0
5	ж	1
6	ж	0
7	ж	0
8	ж	0
9		0
10	ж	0
11	ж - шимит, р - струна, в - кордон, б - улей, ж - жук	0
12	ж	1
13	ж	1
14	ж	0
15	2) 5) 4) 3) 1)	1
16	ж	0
17	ж	0
18	ж	0
Максимально количество баллов		65

Практический тур

Задание №1

За каждую правильно заполненную ячейку 1 балл.

Номер центра происхождения растений с рис. 1	Название сельскохозяйственной культуры	Название материка (часть света), родины происхождения данной культуры	Название природной зоны
I	Рис, огурец, цитрусовые	Евразия, Азия	Влажные экваториальные и муссонные леса
II	Чай, редька, соя, яблона	Евразия, Азия	Область высотной поясности, жестколистные вечнозеленые леса
III	Ячмень, пшеница, морковь, виноград	Азия (Евразия)	степи

IV	Капуста, репа, маслины, лук	Европа (Евразия)	Аррельменно - 15
V	Арбуз, банан, пшеница твердых сортов	Африка	Саванна - 15
VI	Кукуруза, табак, подсолнечник	Америка	и преобразование - 15
VII	Картофель, ананас, арахис	(Сев. Америк.) Южная Америка (Юж. Америк.)	Аррельменно - 15 Саванна - 15 Преобразование - 15

Максимальное количество баллов - 10

Задание № 2.

Как называется рельеф?

05

Назовите природный фактор, формирующий данный рельеф.

Старую лавину и штурм ливня 05

Назовите процесс, формирующий этот рельеф

О чем может говорить асимметричность склонов этой формы?

Максимальное количество баллов - 7

Задание № 3.

Вопросы

1. О каких бескрылых птицах идет речь? 15

2. Какие зверята рождаются из яиц? 15

3. Какие собаки лаять не умеют? 15

4. Почему автор считает, что столица не имеет населения?

В Австралия очень мало населения, в центральной части людей не было

5. Почему кролики страшней, чем наводнение?

Кролики - привезены из Европы мавританцы, но приносящая радость из-за этого уничтожается редкие виды животных

Максимальное количество баллов - 10 баллов

Предсказатель кошмаров

Австралия, дубовые ст. 35

Всероссийская олимпиада школьников 2023-2024 учебный год
Школьный этап. География, 8 класс, ответы

Время выполнения 60 мин. Максимальное кол-во баллов – 54

ШИФР 17-8-8/215

Тестовый тур (27 баллов)

№ задания	Правильный ответ	Кол-во баллов
1	2	1
2	2	1
3	2	0
4	81 64 23	4
5	8	0
6	а, в, д	0
7	а, в, д	0
8	а, в, д, ж	1
9	о. Гамушкова	0
10	о. Умань	0
11	Ячмень, пшеница, морковь, капуста	4
12	5	0
13	5	0
14	а, в, г	0
15	19, 20, 21, 22, 23, 24, 25, 26	1
16	5	1
17	5	1
18	5	1
Максимально количество баллов		15

Практический тур

Задание №1

За каждую правильно заполненную ячейку 1 балл.

Номер центра происхождения растений с рис. 1	Название сельскохозяйственной культуры	Название материка (часть света), родины происхождения данной культуры	Название природной зоны
I	Рис, огурец, цитрусовые	Евразия	Влажные экваториальные и муссонные леса
II	Чай, редька, соя, яблоня	Евразия	Область высотной поясности, жестколистные вечнозеленые леса
III	Ячмень, пшеница, морковь, виноград	Азия (Евразия)	Степные, полупустынные, пустынные

Всероссийская олимпиада школьников 2023-2024 учебный год
Школьный этап. География, 9 класс, ответы.

Время выполнения 90 мин. Максимальное кол-во баллов – 52.

Шифр Г-9-11 / 445

Тестовые задания

№ задания	Правильный ответ	Кол-во баллов
1	A	1
2	B	1
3	B	1
4	Г	1
5	Г	1
6	B	1
7	D	1
8	A	0
9	A	0
10	A	1
11	B	1
12	B	1
13	Г	0
14	A	1
15	B	1
16	B	1
17	A	1
18	B	1
19	A	1
20	B	1
Всего баллов		18

Шифр

Практический тур

Задание № 1

1. Подпишите названия условных обозначений в легенде к карте

Цифра в легенде	Название	Количество баллов
1	сток реки	1
2	водохранилище	1
3	гидроэлектростанция	1
4	озеро, пруд	0
Максимальный балл		3

2. За каждую правильно заполненную ячейку по 1 баллу

Цифра на карте	Название города	Название субъекта РФ	Федеральный округ
1	Казань	респ. Татарстан	Приволжский федеральный округ
2	Самара	Самарская область	Приволжский федеральный округ
3	Иркутск	Иркутская область	Приволжский федеральный округ
4	Волгоград	Волгоградская область	Южный федеральный округ
Максимальный балл			

Максимальное количество баллов - 16

Задание № 2

Определите	Ответ	Баллы
1 Природный регион, о котором идет речь в описании	Западная Сибирь	2
2 Название тектонической структуры, на которой расположен регион	Западно-Сибирская плита	1
3 Крупнейший по добыче бассейна каменного угля в России	Кузнецкий	2
4 Наименование природного объекта, предложенного правительством России в качестве кандидата на занесение в список всемирного наследия ЮНЕСКО	Красноярские столбы, Хребет Саяны, Урюкинские горы, Башкирский Мраморный заводчик, О Урал.	1
5 Перечислите с севера на юг природные зоны региона	Тундра, лесотундра, леса, песчаная степь.	1

Максимальное количество баллов - 10

Задание № 3

- 1) Тувинца
- 2) Тюркские
- 3) Кыргызы

Максимальное количество баллов - 6

Мисраметовичи

Дуровичи С. А.

Дур

1/65

1/65

1-10-4 / 1980

Всероссийская олимпиада школьников 2023-2024 учебный год
Школьный этап. География, 10-11 класс
Время выполнения 90 мин. Максимальное кол-во баллов – 79
Теоретический тур

№ задания	Правильный ответ	Кол-во баллов
1	Г	0
2	Б	1
3	В	0
4	3 4 1 2 6 5	0
5	А	1
6	А-4 Б-3 В-6 Г-4 Д-2	3
7	1 2	1
8	А	1
9	Ана	1
10	А-2 Б-6 В-5 Г-3	0
11	А-много Б-Амский В-мелко-голубо	1
12		0
13	Б А	2
14	В	1
15	Г	0
16	А	0
17	Г	1
18	2 4 8, 5 3 9 млрд.	1
19	В В	0
20	В Г	0
Максимальное количество баллов		11

Задание №1.
Определите географический район по его характеристике

№	Вопрос	Ответы	Кол-во баллов
1.	Назовите географический район	Восток, Восточный	0
2.	Какая река протекает по территории географического района	Валда	2
3.	Какие республики входят в состав географического района	Чеченская, Ингушская, Кабардино-Балкарская, Дагестанская	0
4.	Назовите основные/ведущие отрасли специализации	молочное скотоводство	1

географического района	Максимальное количество баллов
5. Назовите города-миллионеры географического района	11 млн городов 0
Максимальное количество баллов 38	


Задание №2.
Рассчитайте ресурсообеспеченность страны.

№	Страна	Кол-во баллов	Количество лет	Кол-во баллов
1.	Китай	1	25,4	1
2.	Австралия	1	54,4	1
3.	Бразилия	1	36,4	1
4.	Индия	1	146,4	1
5.	Россия	1	454,3	1

Максимальное количество баллов - 10

Задание №3.

Определите туристический объект, его название и страну, в которой он находится. Запишите название туристического объекта и страну его нахождения.

№	Туристический объект	Название туристического объекта	Кол-во баллов	Страна нахождения туристического объекта	Кол-во баллов в
1.		Коллеи	1	Италия	1

2.		Террасы арки	1	Китай	1
3.		Москва столица	1	Россия	1
4.		музей	1	Франция	1
5.		Тадж-Махал	1	Индия	1

Максимальное количество баллов – 10 баллов.

1005

Задание №4.

1.

Цифра на карте	Буква название графика	Количество баллов
1	Г	
2	Б	
3	А	
4	Б	
Максимальный балл		

15

2. За каждую правильно заполненную ячейку по 1 баллу. Итого максимальный балл за задание – 12 баллов

Буква графика	Название населенного пункта	Название страны	Название климатического пояса
А		Вьетнам	Тропический субэкваториальный
Б	Москва	Россия	Умеренный
В			субэкваториальный
Г		Чили	субтропический

2

155

Г-11-3 / 648

Всероссийская олимпиада школьников 2023-2024 учебный год
Школьный этап. География, 10-11 класс
Время выполнения 90 мин. Максимальное кол-во баллов – 79
Теоретический тур

№ задания	Правильный ответ	Кол-во баллов
1	Б	1
2	В	0
3	Г	1
4	1 5 3 2 4 6	0
5	а	1
6	а ч д с в г г з в з	5
7	1, 4	2
8	А	1
9	Лена	1
10	Г-6, А-2, Б-8, В-3	4
11	а-мел, б-алмазный в-карандаш, Г-железо	4
12	Промышленность	1
13	Б, В, А	2
14	В	1
15	8, 5 тыс/км ²	1
16	В	1
17	В	0
18	2 5 3 2 6 6 2 1 8 5 3 9 0 0 0 0 0 0 0 0 0 0	1
19	В	0
20	5	1
Максимальное количество баллов		285

Задание №1.
Определите географический район по его характеристике

№	Вопрос	Ответы	Кол-во баллов
1.	Назовите географический район	Тюбети	2
2.	Какая река протекает по территории географического района	Велл	2
3.	Какие республики входят в состав географического района	Башкортостан Иркутская	1
4.	Назовите основные/ведущие отрасли специализации	Водная энергия, машиностроение	1

географического района	города-миллионеры географического района	Максимальное количество баллов
5. Назовите географического района	Тюбети, Тибет	0
		65


Задание №2.
Рассчитайте ресурсобеспеченность страны.

№	Страна	Кол-во баллов	Количество лет	Кол-во баллов
1.	Россия	1	25	1
2.	Австралия	1	34	1
3.	Бразилия	1	35	1
4.	Индия	1	146	1
5.	Япония	1	434	1

Максимальное количество баллов - 10

Задание №3.

Определите туристический объект, его название и страну, в которой он находится. Запишите название туристического объекта и страну его нахождения.

№	Туристический объект	Название туристического объекта	Кол-во баллов	Страна нахождения туристического объекта	Кол-во баллов
1.		Коллизей	1	Италия	1

Задание №4.

1.





Цифра на карте	Буква название графика	Количество баллов
1	Б	1
2	В	1
3	Г	1
4	А	1
Максимальный балл		

140

2. За каждую правильно заполненную ячейку по 1 баллу. Итого максимальный балл за задание – 12 баллов

Буква графика	Название населенного пункта	Название страны	Название климатического пояса
А	Киев	Украина	Умеренный
Б	Самара	Чили	Субтропический
В	Амстердам	Индонезия	Экваториальный
Г	Шри-Ганга	Индия	Тропический

180

2.		Испания	1	Китай	1
3.		Москва	1	Россия	1
4.		Египет	1	Франция	1
5.		Индия	1	Индия	1

140

Максимальное количество баллов – 10 баллов.

Деревянные мосты
Душовае С. В. ДУД